

Escola Nossa Senhora do Amparo - Mirandela

Matemática 2º ano


Nome: _____

Data: ____/____/____

1- Completa.

101			dezanove
	vinte e sete	223	
323			vinte e quatro
	quarenta	376	
442			quarenta e sete
	cinquenta e nove	500	

2- Observa a imagem com atenção.



Pinta a camisola dos meninos da seguinte maneira:

1º - Azul 3º - Verde 6º - Vermelho 8º - Castanho 10º - Preto

3 - Ordena os seguintes números por ordem crescente.

810 5 47 324 16 276 95 175

< < < < < < <

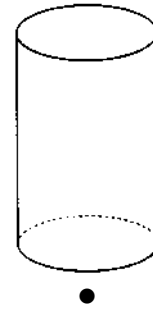
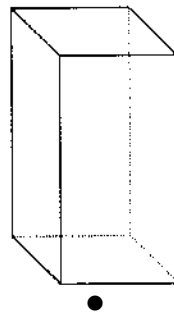
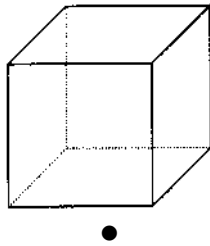
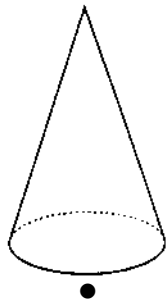
4 - Calcula recorrendo ao algoritmo:

$264 + 237 =$

$345 + 264 =$

$458 + 157 =$

5 - Liga cada sólido ao seu nome.



•
cubo

•
paralelepípedo

•
cone

•
cilindro

6 - O Tiago está a ler um livro de 56 páginas de aventuras. Já conseguiu ler 25 páginas.

Quantas páginas faltam ler?

Indicação


Operação



R: _____

7 - A Maria comprou uma dezena e meia de flores e o seu irmão comprou três dúzias de flores para dar à mãe. Quantas flores deram os dois meninos?

R: _____



A Berta comprou duas dezenas e meia de castanhas assadas para si e uma dúzia para oferecer à avó.

Quantas castanhas assadas comprou a Berta?

Indicação

Operação

R: _____