

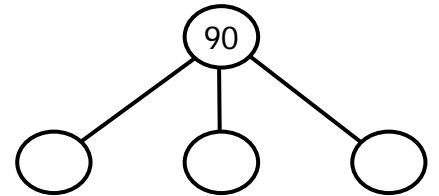
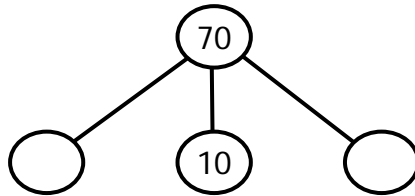
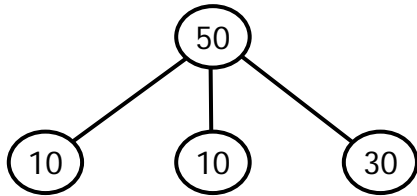
# Escola Nossa Senhora do Amparo - Mirandela

## Matemática 2º ano

Nome: \_\_\_\_\_


Data: \_\_\_\_/\_\_\_\_/\_\_\_\_

1. Completa como no exemplo.

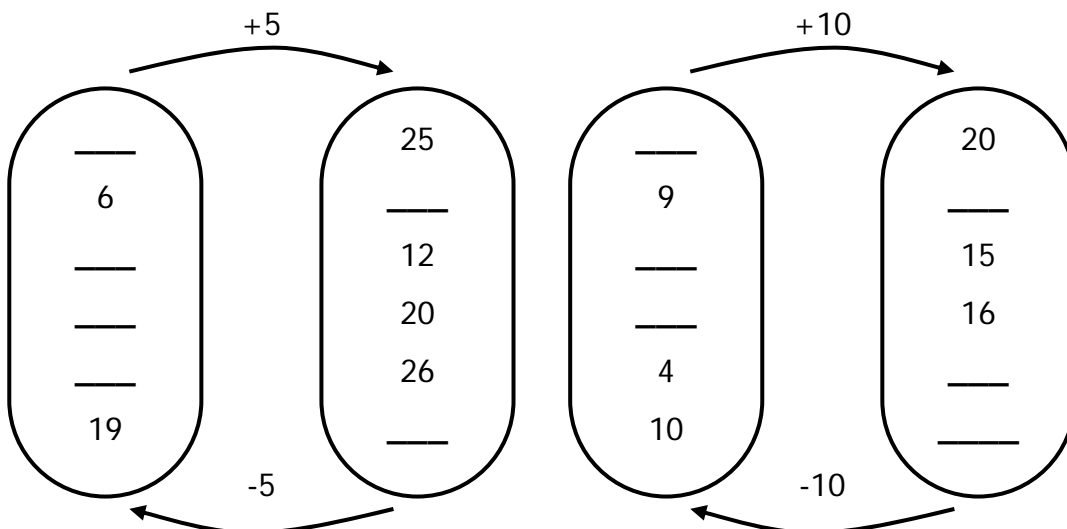


2. A Luísa está à janela da sua casa.  
Em que andar mora ela?


- |   |  |   |
|---|--|---|
| <input type="checkbox"/> primeiro andar | <input type="checkbox"/> segundo andar | <input type="checkbox"/> terceiro andar |
| <input type="checkbox"/> quarto andar   | <input type="checkbox"/> quinto andar  | <input type="checkbox"/> sexto andar    |



3. Ajuda o Simão e o Filipe a colocar os números que faltam.



4. Completa a série.




5. Lê com atenção os seguintes problemas e resolve-os.  
 Não te esqueças de apresentar as operações.

A Mónica tinha uma caixa com 6 dezenas e meia de rebuçados. Ela já comeu 25 rebuçados.

Agora, quantos rebuçados tem a Mónica?

Indicação

Operação



R: \_\_\_\_\_

O senhor Xavier apanhou três dezenas e meia de batatas, duas dezenas de cenouras e uma dúzia de nabos.

Quantos legumes colheu o senhor Xavier?

Indicação

Operação



R: \_\_\_\_\_

O Carlos está a montar um puzzle de 98 peças. Já conseguiu montar 47 peças.

Quantas peças lhe faltam montar?



R: \_\_\_\_\_