




Avaliação de ESTUDO DO MEIO

Nome: _____ Data: _____ Inf. _____

Lê com atenção:

1. Pinta as figuras e, onde for devido, escreve:
cabo - ilha - praia - arribas.



2. Explica o que é:

uma praia → _____

um cabo → _____

uma ilha → _____

uma arriba → _____

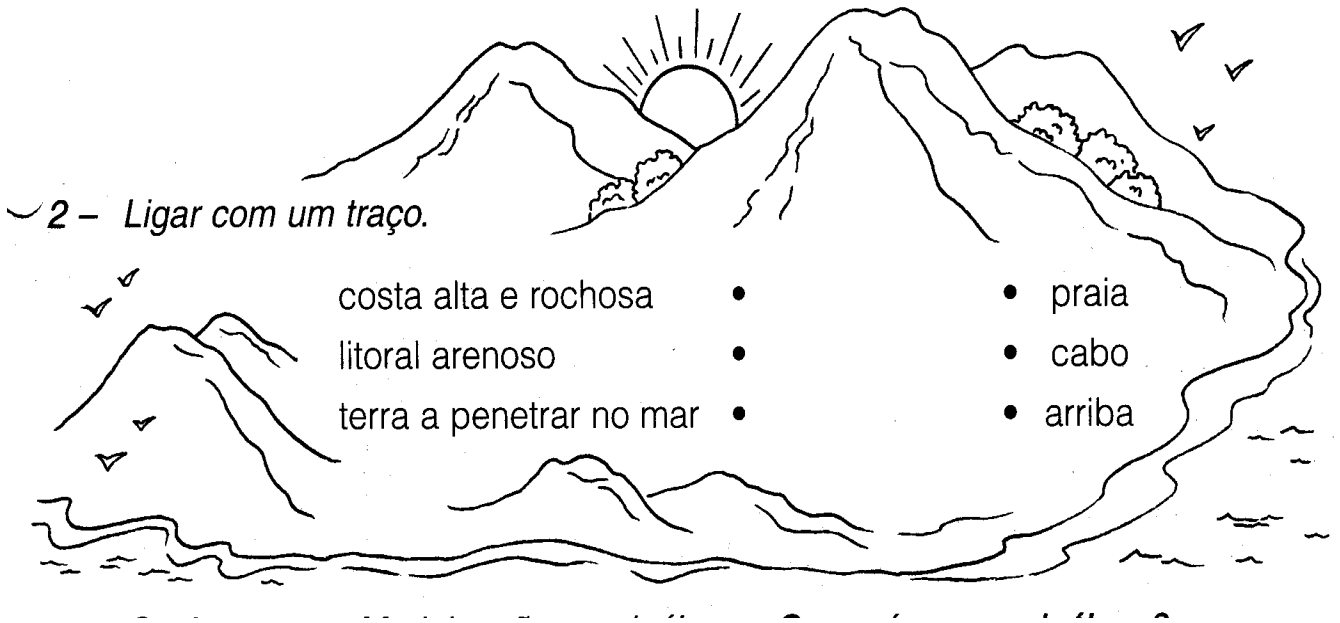
3. A costa do nosso país é banhada pelo _____, varia de _____ e apresenta-se _____.

região para região

Oceano Atlântico

muito recortada


4. Liga correctamente.



2 - Ligar com um traço.

- | | | | |
|-------------------------|---|---|--------|
| costa alta e rochosa | • | • | praia |
| litoral arenoso | • | • | cabo |
| terra a penetrar no mar | • | • | arriba |

5. Os Açores e a Madeira são arquipélagos.
O que é um arquipélago?



6. Escreve o nome de algumas ilhas...



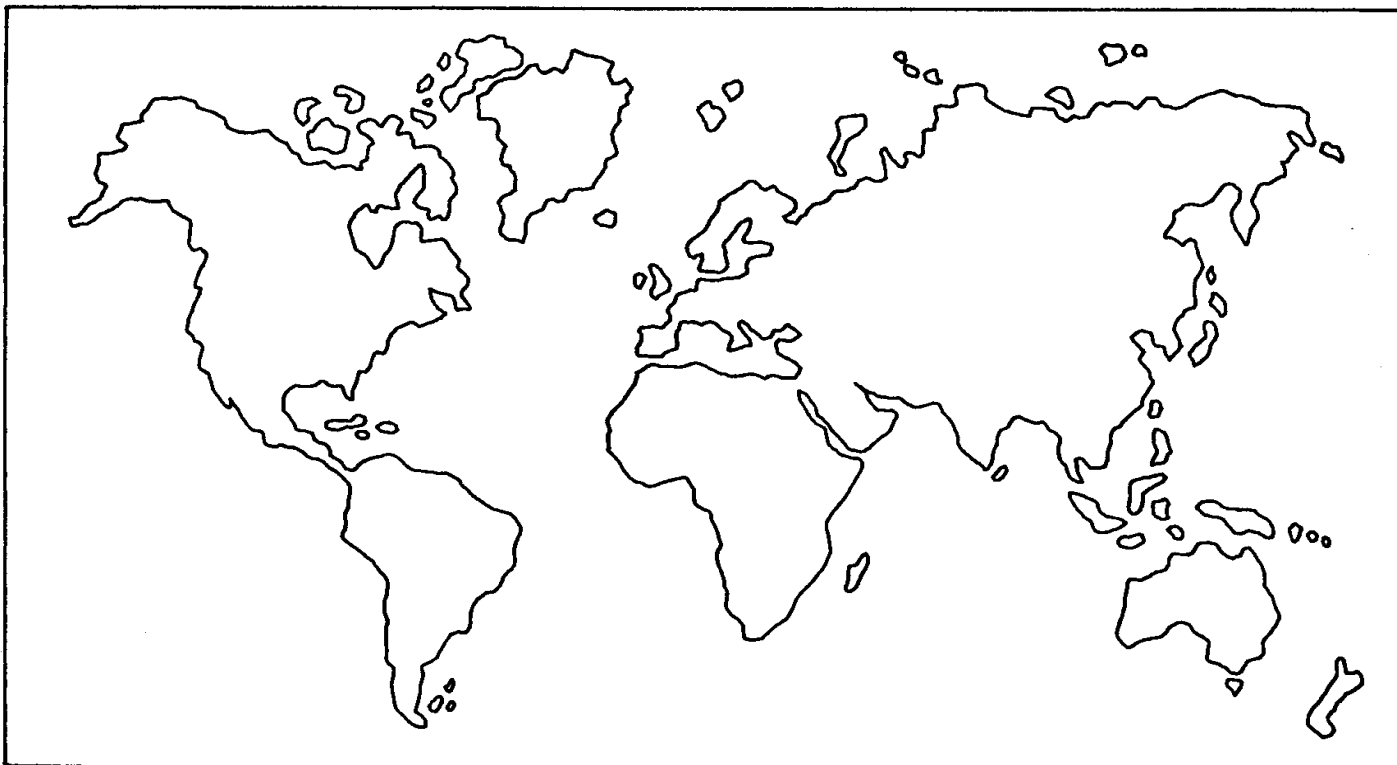
da Madeira _____

dos Açores _____



6. Em que Oceano ficam situados estes arquipélagos?

A figura representa o planisfério com os continentes e os oceanos.



7. Pinta os continentes:

- . **Oceânia** - cor - de - laranja
- . **Ásia** - a amarelo
- . **África** - a castanho

- . **América** - a vermelho
- . **Europa** - a verde

8. Escreve o nome dos oceanos, no planisfério.

9. Escreve S ou N.

A terra é formada por cinco continentes

O maior oceano é o Atlântico

A Ásia é o maior continente.

O maior oceano é o Pacífico

