


















Nome: _____

Data: _____

1. Os meninos de uma escola andaram a recolher jornais para serem reciclados. Repara na tabela onde está registado o número de jornais que eles recolheram até ao mês de Fevereiro.

Cada  representa uma centena de jornais.

Janeiro	   
Fevereiro	 
Março	  
Abril	     
Maio	

- 1.1. Quantos jornais recolheram, os meninos, durante o primeiro trimestre?

- 1.2. Quantos jornais precisavam de recolher no mês de Maio para atingirem um total de 2300 jornais?

- 1.3. Qual a diferença de jornais recolhidos entre o mês que recolheram mais e o mês em que recolheram menos?

- 1.4. – Durante o mês de Abril, que quantidade de jornais necessitariam de recolher a mais, para chegar ao milhar.

00-50-00

