



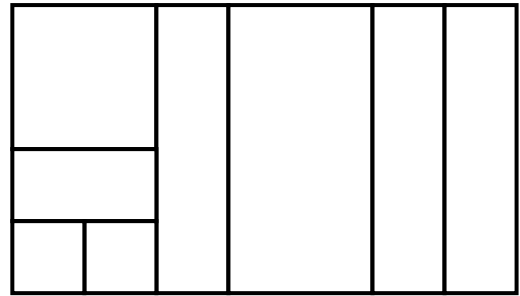
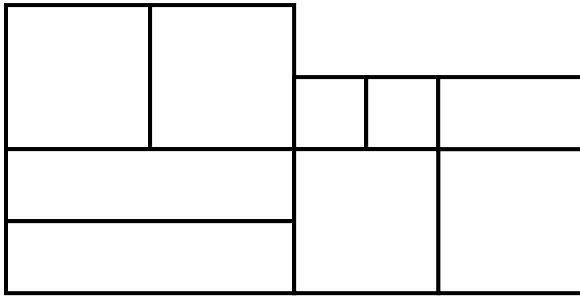
Matemática



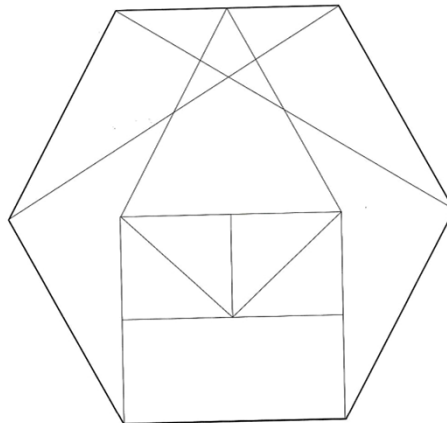
Nome: _____

Data: _____

Quantos quadrados consegues contar nas figuras?



Observa a imagem. Lê as perguntas. Responde.



Quantos triângulos estão desenhados na figura? _____

E quantos quadrados? _____

Quantos rectângulos vês? _____

Que nome tem a figura geométrica que está desenhada com a linha mais grossa?
